



אשליות אופטיות 3

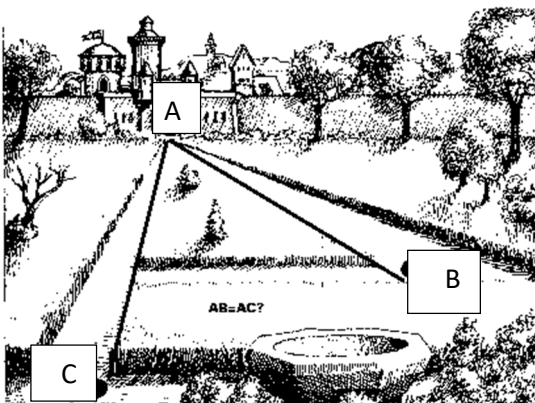
1. מה ההבדל בין הציור העליון והתחתון <<<

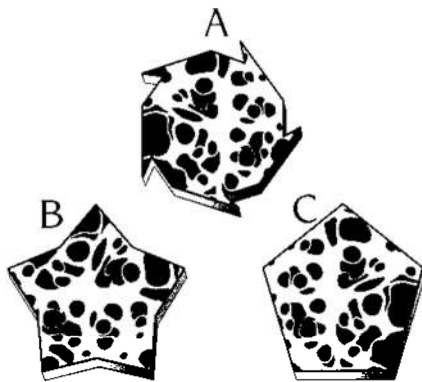
2. מה רואים כאן?



3. דב יוצא מהקרח או כלב ים?

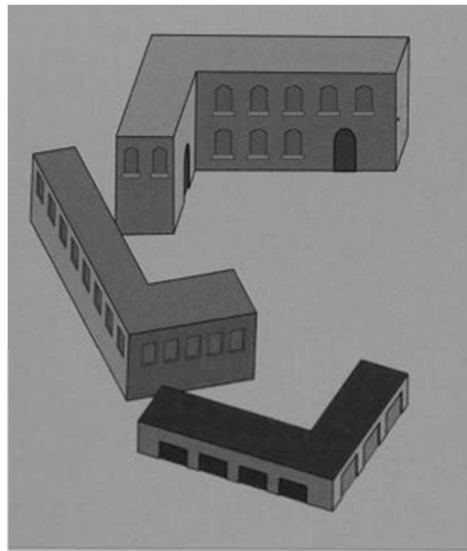
4. מה יותר ארוך הקו a לב או m ל c






5. איזה מהחלקים יכולים להכנס לתוך החלק התחתון? (רק אחד מהם)

6. יש כאן שלשה מבנים. למי יש את הגג הכי גדול?




7. האם הכל עקום או שיש משהו ישר?




8. יש כאן שתי קוביות

בצד של הקוביה המייצג את מס' 5 יש נקודה אמצעית. איזה גדולה יותר? הקרובה או הרחוקה?



9. כמה ריבועים סימטריים יש בתמונה?



מוגש ע"י חיים כ"ץ

אהבתם? בכל יום שלישי אני שולח דברים מעניינים ללא עלות למייל. הצטרפו עכשיו

a0533180118@gmail.com