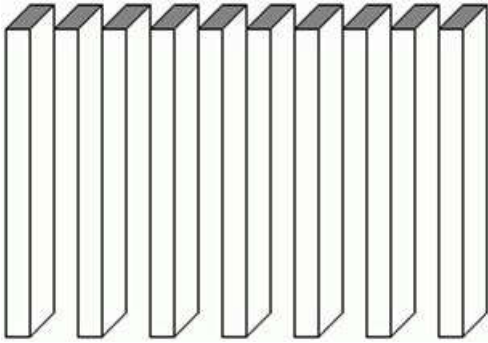
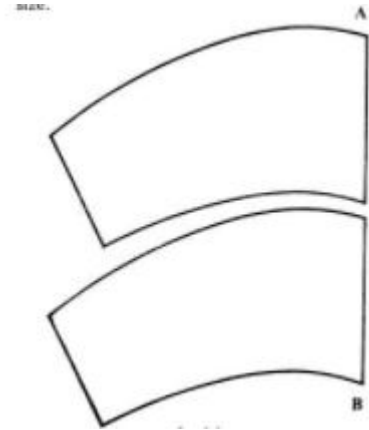


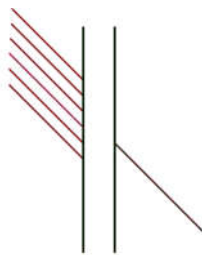
אשליות אופטיות



האם יש כאן 7 או 10?



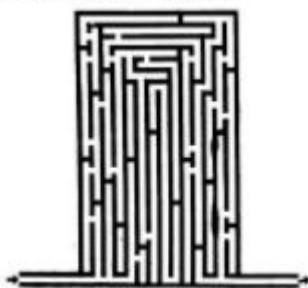
איזה מהם יותר גדול?



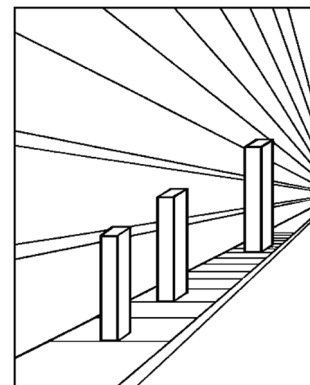
לאיפה ממשיך הקו שמתחיל בצד ימין?



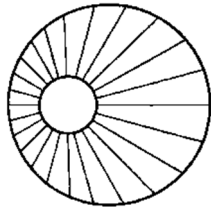
האם העיניים של האיש הזה ישרות?



האם גובה של הכובע יותר מהרוחב של השוליים?



איזה עמוד הכי גבוה?



אתם רואים פה כדור או צינור?

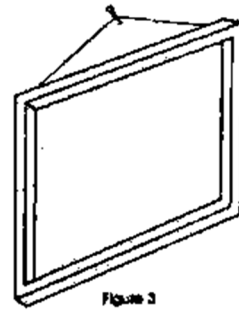

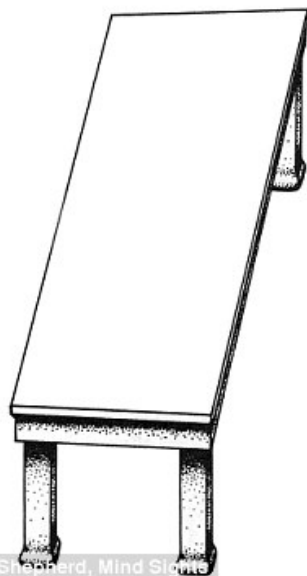


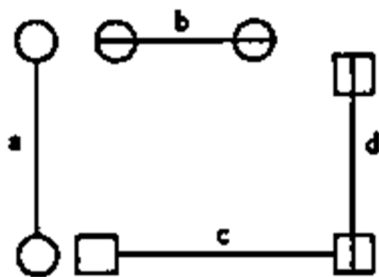
Figure 3

משהו מוזר במסגרת של התמונה?

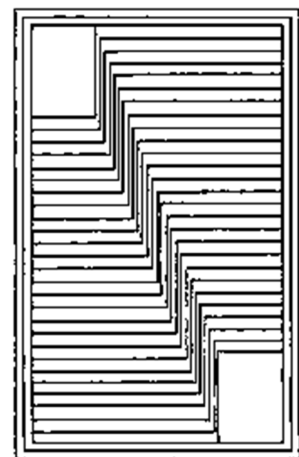


© Roger Sheppard, Mind Slows

כדאי לכם למדוד את שני השולחנות האלו. הם ממש באותו גודל!



שימו לב! 4 קווים, וכולם באותו האורך!



איזה חלק של התמונה גבוהה יותר ימין

למטה או שמאל למעלה?