



# חידות גפרורים 3

שלום לכולם.

גם הפעם אנו מגישים פה מבחר חידות גפרורים יחד עם התשובות

הם יבואו בקצרה בעמוד האחרון!

ניתן לקבל חוברות נוספות ומאתגרות בשליחת בקשה לאימייל

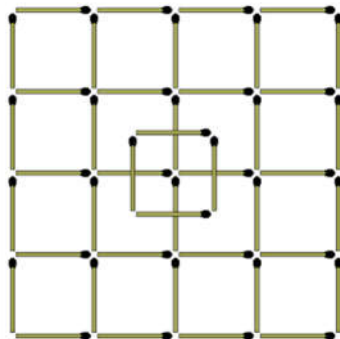
[A0533180118@gmail.com](mailto:A0533180118@gmail.com)

חיים כץ

אין לעשות שימוש מסחרי בחומרים – לגבי שימוש במוסדות חינוך – צרו קשר לאישור

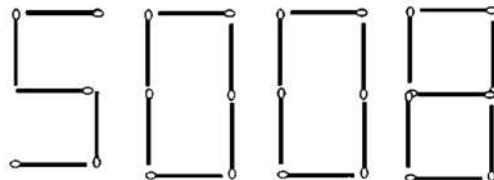


1. סדרו מחדש את ששת הגפרורים כך שכל גפרור יגע בכל הגפרורים!



2. כמה ריבועים יש פה?

3. מה המספר הכי גדול שתוכלו להגיע אליו בהוצאת שני גפרורים?



סדנאות ODT



העצמה



רענון



חוויות



שיפור



גיבוש




מסעות



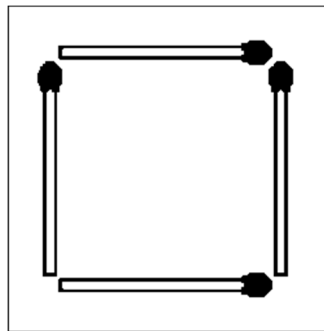
שטח



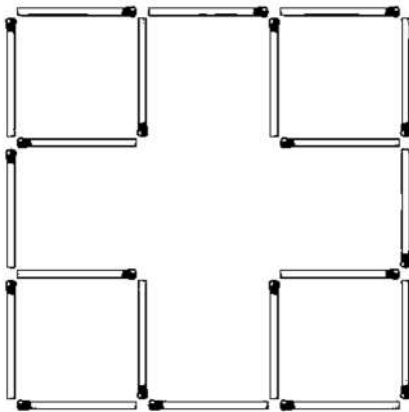
4. הוסיפו פה שני גפרורים ותייצרו כאן 5 ריבועים !



5. הוסיפו 4 גפרורים ותייצרו 4 משולשים ושני ריבועים!



6. הזיזו 2 גפרורים ויצרו 7 ריבועים !



7. מה המספר שאמור לבא במקום הסימן שאלה?

89537 ?



סדנאות ODT



העצמה



רענון



חוויות



שיפור



גיבוש



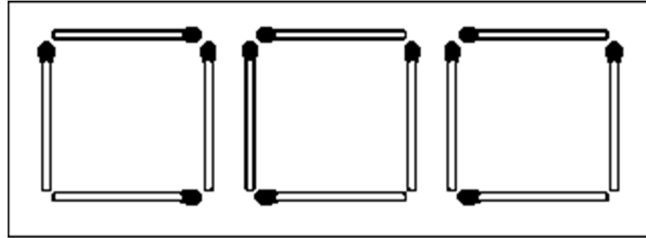
מסעות



שטח



8. הזיזו 2 גפרורים ויצרו את מספר 430!




סדנאות ODT



העצמה

9. הזיזו 3 גפרורים וקבלו 6 ריבועים שווים!



רענון

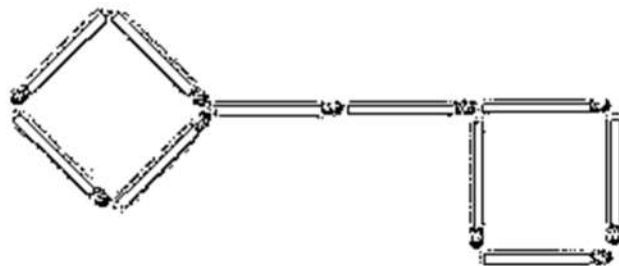


חוויות



שיפור

10. הזיזו 3 גפרורים ויצרו מלבן וריבוע!



גיבוש



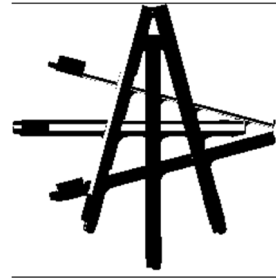
מסעות



שטח



תשובות



.1



סדנאות ODT



העצמה

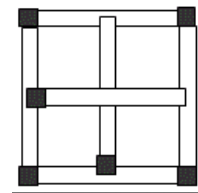
35.2

511,108.3

.4



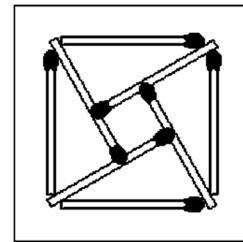
רענון



.5



חוויות

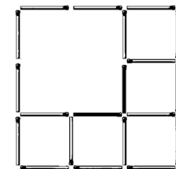


שיפור

.6



גיבוש

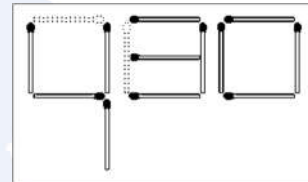


1.7

.8



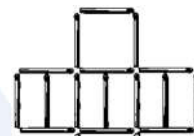
מסעות



.9



שטה



.10

