


## הנדסה/משקל

### חזרה

**1. הסתכלי במאזנים וסמני ✓ או ✗ במשבצת המתאימה!**



יותר כבד מהדובי הירוק	שוקל כמו הדובי הירוק	יותר קל מהדובי הירוק	
			הדובי האדום
			הדובי הסגול
			הדובי הכתום




**2. ציירי שני חפצים והשלימי!**

ה \_\_\_\_\_ יותר כבד מה \_\_\_\_\_.




ה \_\_\_\_\_ יותר קל מה \_\_\_\_\_.

**3. התבונני במאזנים והשלימי!**




המגהץ שוקל \_\_\_\_\_ גולות.



השעון שוקל \_\_\_\_\_ גולות.



הכדור שוקל \_\_\_\_\_ גולות.




הנורה שוקלת \_\_\_\_\_ גולות.


**4. השלימי!**

- החפץ הקל ביותר הוא- \_\_\_\_\_.
- החפץ הכבד ביותר הוא- \_\_\_\_\_.
- המגהץ יותר \_\_\_\_\_ מהכדור.
- השעון יותר \_\_\_\_\_ מהמגהץ.

**5. נוסוף עוד גולות כדי לאזן את המאזנים.**




הוספנו עוד \_\_\_\_\_ גולות.




הוספנו עוד \_\_\_\_\_ גולות.

**ציירי והשלימי!**



**6. התבוני בתמונה!**



**7. שימי לב למשפטים, והשלימי!!!**

**משקל של תפוח שוה למשקל של כדור גדול וכדור קטן.**

משקל 2 תפוחים שוה למשקל של \_\_\_\_\_.

**משקל 6 עגבניות שוה למשקל 8 אפרסקים.**

כמה אפרסקים יצטרכו בשביל 3 עגבניות? \_\_\_\_\_.

בס"ד

**8. מה כבד יותר, הקיפי את המילה המתאימה!**

פיל/אדם      בלון/תפוח      בנין/כסא      תינוק/מכונת-כביסה

**מה קל ביותר, הקיפי את המילה המתאימה!**

נוצה/מחק      חבילת סוכר/שולחן      קלמר/נייר      מכונית/רכבת

**9. סדרי את החפצים מהקל אל הכבד!**

משקפיים, ארון, מטוס, אויר, ספר

\_\_\_\_\_1. \_\_\_\_\_2. \_\_\_\_\_3. \_\_\_\_\_4. \_\_\_\_\_5.

**10. סדרי את החפצים מהכבד אל הקל!**

בובה, תנור, ניילון, מכונית

\_\_\_\_\_1. \_\_\_\_\_2. \_\_\_\_\_3. \_\_\_\_\_4.

בהצלחה!